

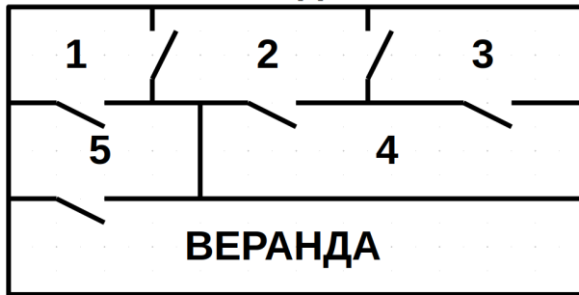




Третий класс

1. Повороты

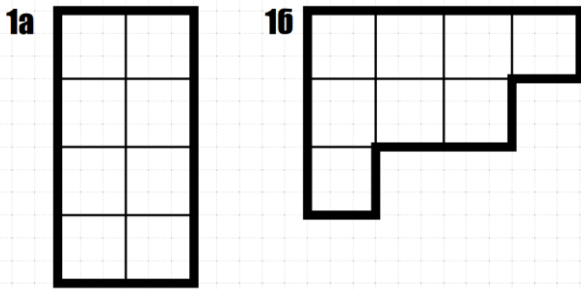
План дома



Рената прошла через каждую дверь один раз и оказалась на веранде. Где её комната?

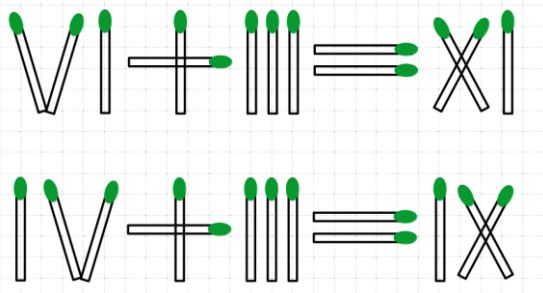
2. Тетрамино

Разрежьте фигуру на две одинаковые детали тетрамино



3. Спички

Переложите 1 спичку так, чтобы равенство стало верным



4. Интервалы

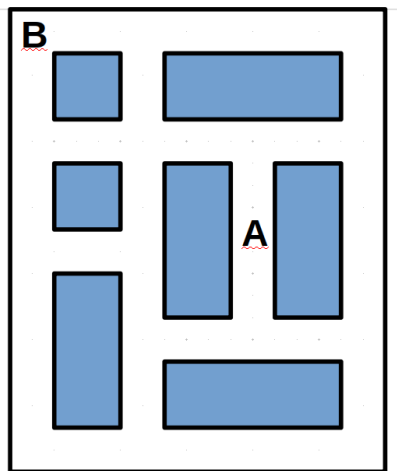
На дороге стоят столбы через каждый километр. От первого столба до пятого кот Леопольд на велосипеде доезжает за 20 минут. За сколько минут кот Леопольд доедет от пятого столба до десятого?

5. Числа и цифры

Найдите наибольшее четырёхзначное нечётное число, сумма цифр которого равна 5.

Четвёртый класс

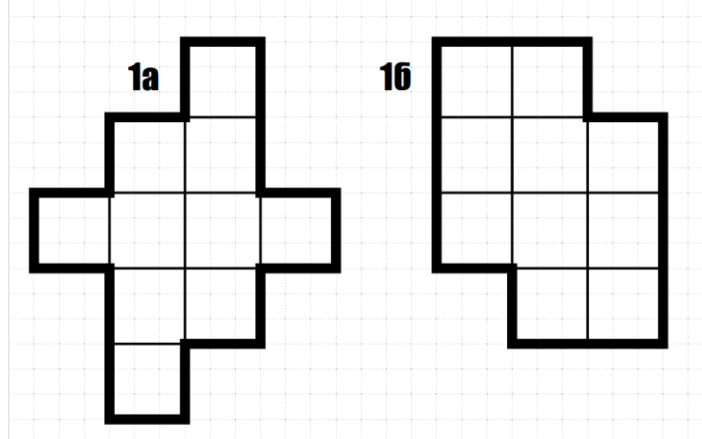
1. Повороты



Мирон учится водить автомобиль, но пока умеет поворачивать только направо. Нарисуй его путь из точки А в точку В. Сколько получится поворотов (минимум)?

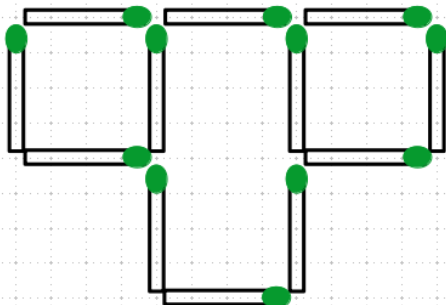
2. Пентамино

Разрежьте фигуру на 2 одинаковые детали пентамино



3. Спички

Переложите 1 спичку так, чтобы получилось 3 квадрата



4. Интервалы

На каждой перемене Полина съедает по конфете. За неделю (с понедельника по пятницу включительно) было 33 урока. Сколько конфет съела Полина?

Числа и цифры

Среди трёхзначных чисел, у которых все цифры различны, найдите а) наибольшее; б) наименьшее.